

Школьный этап ВсОШ по Географии (Калининградская область)

9 класс

8:00-22:00 16 окт. 2025 г.

Блок с выбором ответов

№ 1 (1 балл)

К какому федеральному округу России относится Калининградская область?

- А) к Северо-Западному**
- Б) к Западному
- В) к Прибалтийскому
- Г) к Приморскому

№ 2 (1 балл)

Какая страна полностью расположена в пределах особой зоны Севера?

- А) Канада
- Б) Финляндия
- В) Россия
- Г) Исландия**

№ 3 (1 балл)

Определите плотность населения в республике Марий Эл, площадь которой составляет 23,2 тыс. км², а проживает в ней 711,6 тыс. жителей:

- А) 0,3 чел/км²
- Б) 3,1 чел/км²
- В) 31 чел/км²**
- Г) 310 чел/км²

№ 4 (1 балл)

Выберите регион, на большей части территории которого представлен морской тип умеренного климата

- А) Приморский край
- Б) Камчатский край**
- В) Калининградская область
- Г) Архангельская область

№ 5 (1 балл)

Как изменится атмосферное давление при подъеме на возвышенность в 420 м?

- А) понизится на 40 мм рт. ст.**
- Б) повысится на 40 мм рт. ст.
- В) повысится на 75 мм рт. ст.
- Г) понизится на 75 мм рт. ст.

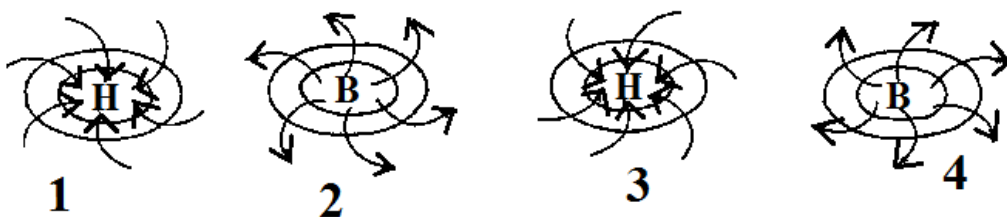
№ 6 (1 балл)

Выберите группу озер, котловины которых образовались на месте рифтовых разломов в континентальной земной коре

- А) Комо, Виннипег, Эри, Чад
- Б) Онежское, Кулундинское, Баскунчак, Ньяса
- В) Байкал, Танганьика, Балатон, Мёртвое море**
- Г) Титикака, Чудское, Сасык, Ханка

№ 7 (1 балл)

Схема направления движения воздуха в антициклоне в Северном полушарии отмечена правильно на рисунке номер:



- А) рисунок № 1
- Б) рисунок № 2
- В) рисунок № 3
- Г) рисунок № 4**

№ 8 (1 балл)

Какой географический объект является географическим центром России?

- А) озеро Виви**
- Б) плато Путорана
- В) озеро Таймыр
- Г) Васюганские болота

№ 9 (1 балл)

Выберите группу этносов, относящихся к уральско-юкагирской языковой семье финно-угорской языковой группы

- А) чуваша, аварцы, даргинцы, кумыки
- Б) карелы, водь, ижорцы, вепсы**
- В) башкиры, марийцы, манси, селькупы
- Г) тофалары, буряты, хакасы, эвенки

№ 10 (1 балл)

Выберите территорию, где ускорение силы Кориолиса будет наибольшим

- А) архипелаг Шпицберген**
- Б) остров Кюсю
- В) остров Готланд
- Г) Острова Зеленого Мыса

№ 1 20 баллов (за верное определение субъекта по контурам – 2 балла, за верное указание его административного центра – 2 балла)

Определите по предложенным контурам субъект Российской Федерации. Напишите его название и укажите административный центр субъекта РФ

Контур субъекта РФ	Название / Административный центр
 A map showing the outline of the Republic of Dagestan, a federal subject of Russia. The map is colored yellow and shows the coastline of the Caspian Sea to the east. The surrounding areas are shaded in light gray.	<p>✓ Республика Дагестан / Махачкала</p>
 A map showing the outline of the Republic of Khakassia, a federal subject of Russia. The map is colored yellow and shows the surrounding areas in light gray.	<p>✓ Хакасия / Абакан</p>

Контур субъекта РФ	Название / Административный центр
	<p>✓ Сахалинская область / Южно-Сахалинск</p>
	<p>✓ Ненецкий АО / Нарьян-Мар</p>
	<p>✓ Республика Карелия / Петрозаводск</p>

№ 2 10 баллов (правильное определение лишнего элемента – 1 балл, Верное определение принципа объединения трех других – 1 балл)

Географический детектив: найдите лишнее звено! В каждой из пяти цепочек три элемента объединены одним четким географическим признаком (принципом), а один элемент является лишним. Определить лишний элемент в каждой цепочке и объясните принцип, по которому объединены три других.

Цепочка 1 «Горные хребты»	<i>Яблоновый –Брукс – Сунтар-Хаята – Сихотэ-Алинь</i>
	Лишний элемент: Яблоновый хребет
	Принцип объединения: Молодые складчатые горы, образовавшиеся в киммерийскую эпоху горообразования (мезозойская эра)
Цепочка 2 «Вулканы»	<i>Чимборасо – Килиманджаро–Килауэа – Казбек</i>
	Лишний элемент: Килауэа
	Принцип объединения: потухшие вулканы
Цепочка 3 «Города России»	<i>Молога – Энгельс – Пучеж - Калязин</i>
	Лишний элемент: Энгельс
	Принцип объединения: города Поволжья, затопленные при строительстве водохранилищ
Цепочка 4 «Изолинии»	<i>Изобара – Изогieta – Изобата – Изотаха</i>
	Лишний элемент: Изобата
	Принцип объединения: изолинии атмосферных явлений
Цепочка 5 «Полезные ископаемые»	<i>Нефть – Апатиты – Природный газ – Горючие сланцы</i>
	Лишний элемент: Апатиты
	Принцип объединения: Горючие полезные ископаемые (топливные ресурсы)

№ 3 (16 баллов)

Географический детектив: определи страну, используя сведения, приведенные в тексте.

Эта страна обладает уникальным экономико-географическим положением. Страна является единственным в мире государством, расположенным одновременно в пределах двух частей света и на двух материках. Территория страны омывается водами двух морей, принадлежащих бассейнам двух разных океанов. В пределах одной части света страна граничит по суше с двумя государствами, столица, одного из которых, является самым жарким местом в мире, а на территории другого государства с VIII века до н. э. по IV век н. э. существовало древнее Мeroитское царство (Куш) в северной части Нубийского царства. Через территорию страны проходит важнейший международный морской путь из одного густонаселенного региона мира в другой.



Ответьте на вопросы по тексту:	
1. Назовите страну (3 баллов)	✓ Египет
2. Укажите части света и материки в которых расположена страна (4 баллов)	✓ Африка и Азия
	✓ Африка и Евразия

3. Назовите моря омывающие страну и к акваториям каких океанов они относятся (4 баллов)	✓ ✓ ✓ ✓	Средиземное море Атлантический океан Красное море Индийский океан
4. Укажите название государств-соседей граничащих со страной по суше (2 баллов)	✓ ✓	Ливия Судан
5. Укажите, название морского пути и какие регионы он соединяет (3 баллов)	✓ ✓	Суэцкий канал. Соединяет Европу и Южную Азию

№ 4 10 баллов (по 2 балла за каждое верное указание названия объекта)

Определите по изображению природные объекты Всемирного наследия ЮНЕСКО на территории России. Напишите их названия.

Природные объект Всемирного наследия ЮНЕСКО в России	Название объекта Всемирного наследия ЮНЕСКО
	✓ Ленские столбы
	✓ озеро Байкал

Природные объект Всемирного наследия ЮНЕСКО в России	Название объекта Всемирного наследия ЮНЕСКО
	<p>✓ Куршская коса</p>
	<p>✓ Плато Путорана</p>
	<p>✓ Плато Маньпупунёр «Девственные леса Коми»</p>